

Milí rodiče,

tento týden budeme v českém jazyce opakovat probranou látku (párové souhlásky). V matematice pokračujeme v násobilce.

Děkuji za spolupráci.

Tř. uč. M. Ustrnulová

Český jazyk

- přepiš do sešitu – UČ. str. 120/cv.25
- přepiš do sešitu – UČ. str. 119/cv. 18, 19
- PS str. 26, 27/celá
- PS str. 52/ 6, 7, 8 – doplnit
- Pravopisné minutovky – str.26

- Čítanka str. 52,53 + do sešitu: Název, autor, odpovědi na otázky 1,2,4,5 + Je to pravda? - zapiš takto: Např.: a) ano

Procvičování (Ctrl + kliknutí – stránka se otevře):

Procvičování párových souhlásek - <https://skolakov.eu/cesky-jazyk-2-trida/parove-souhlasky>

<https://www.umimecesky.cz/doplnovacka-souhlasky-parove-p-b-t-d-1-uroven/3820>

<https://www.umimecesky.cz/doplnovacka-souhlasky-parove-p-b-t-d-2-uroven/3766>

Doplňování i,í/y,ý – <https://www.skolasnadhledem.cz/game/5858>

Doplňování u,ú,ů – <https://www.skolasnadhledem.cz/game/5857>

Druhy vět - <https://www.skolasnadhledem.cz/game/3028>

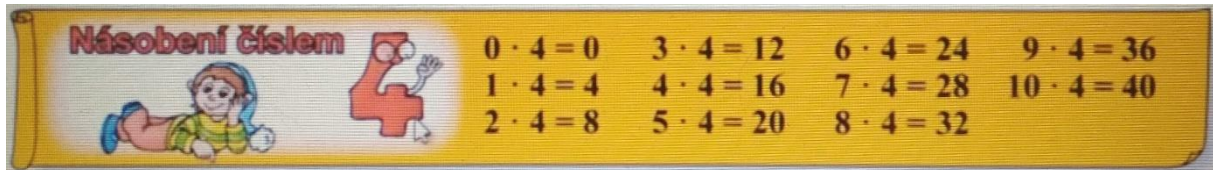
Prvouka

- Opakování str. 56 – cv 1,2,4
- UČ. str. 57 –přečíst si + PS. str. 53, PS str. 54

Matematika

- Násobení čtyřmi - nauč se z paměti

<https://www.matyskova-matematika.cz/matyskova-matematika-6-dil/video/str-24/>



- Pracovní list 1
- Pracovní list 2
- Pracovní sešit – str. 27
- Pracovní sešit str. 28 - (Nedělat pouze cv.4 a cv.7), cvičení 8 napsat do M-Š
- Násobilka 4 – procvičuj <https://skolakov.eu/matematika-2-trida/nasobeni-a-deleni-4>

- Procvičování násobilky 2 a 3.
<https://skolakov.eu/matematika-2-trida/nasobeni-a-deleni-2>
<https://skolakov.eu/matematika-2-trida/nasobeni-a-deleni-3>
https://www.onlinecviceni.cz/exc/pub_list_exc.php?action=show&class=2&subject=Matematika&search1=11.+N%C3%A1soben%C3%AD+a+d%C4%9Blen%C3%AD+2#selid - násobení 2
https://www.onlinecviceni.cz/exc/pub_list_exc.php?action=show&class=2&subject=Matematika&search1=13.+N%C3%A1soben%C3%AD+a+d%C4%9Blen%C3%AD+3#selid – násobení 3

Pracovní list 2

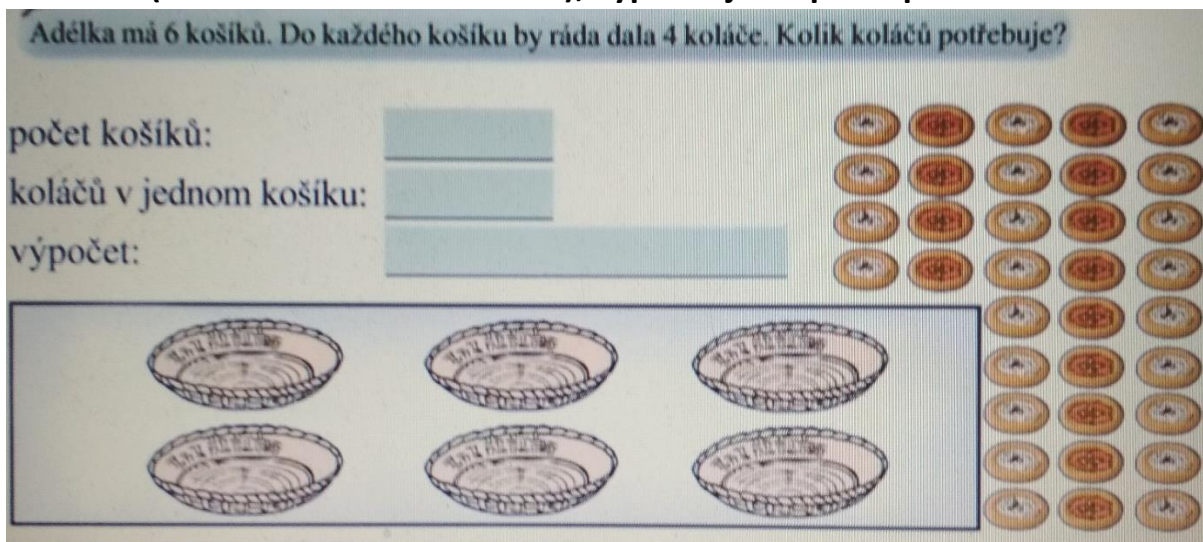
1. Znáznorní (nakresli do košíků koláče), vypočítej a napiš odpověď.

Adélka má 6 košíků. Do každého košíku by ráda dala 4 koláče. Kolik koláčů potřebuje?

počet košíků:

koláčů v jednom košíku:

výpočet:



Odpověď: _____

Zkontroluj si slovní úlohu podle videa – <https://youtu.be/KP-YWFAJbEg>

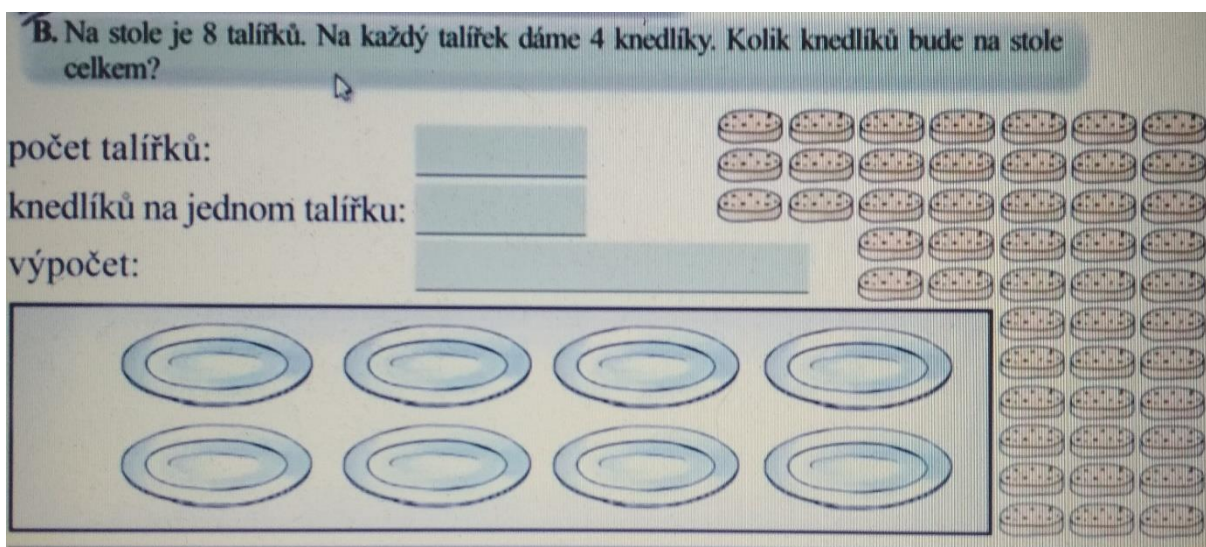
2. Znáznorní, vypočítej a napiš odpověď.

B. Na stole je 8 talířků. Na každý talířek dáme 4 knedlíky. Kolik knedlíků bude na stole celkem?

počet talířků:

knedlíků na jednom talířku:

výpočet:



Odpověď: _____

Zkontroluj si slovní úlohu podle videa – <https://youtu.be/niKasYGifXA>